



اختبار نهاية الفترة الدراسية الأولى

العام الدراسي 2022/2021م

الصف السادس

نموذج إجابة اختبار مادة

الاجتماعيات

الأربعاء – 2022 / 1 / 5





وزارة التربية

الإدارة العامة لمنطقة حولى التعليمية
التوجيه الفني للاجتماعيات

امتحان نهاية الفترة الدراسية الأولى

لمقرر (الكويت ودول الخليج العربية)

" للصف السادس "

نموذج الإجابة

العام الدراسي (٢٠٢١ / ٢٠٢٢ م)

الزمن: ساعة و٤٥ دقيقة

عدد الأوراق: (٥)

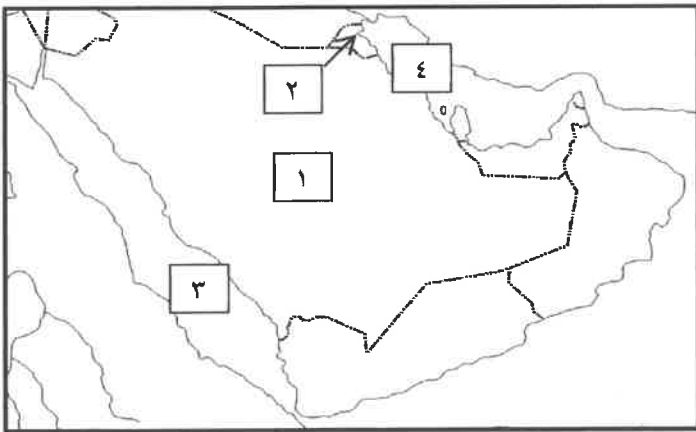
أجب عن جميع الأسئلة التالية:

السؤال الأول /الموضوعي ويتكون من (أ - ب - ج - د - هـ - و - ز): (لكل سؤال درجة = ٧ درجات)

(أ) صوب ما تحته خط في العبارات التالية :

- | | | |
|----------------------|---|--|
| السعودية | ← | ١- الدولة الخليجية التي لم تخضع للاستعمار البريطاني هي الإمارات. ص ٦٥ |
| القفال | ← | ٢- نهاية موسم الغوص على اللؤلؤ تسمى <u>الدشة</u> . ص ٣٢ |
| مجلس التعاون الخليجي | ← | ٣- منظمة سياسية اقتصادية إقليمية تضم ست دول عربية خليجية <u>الأمم المتحدة</u> . ص ٧٠ |
| القلاف | ← | ٤- يطلق على صانع السفينة قديماً <u>بالمجدمي</u> . ص ٣٣ |
| ١٩٧١م | ← | ٥- استقلت مملكة البحرين في عام <u>١٩٦١م</u> . ص ٦٥ |
| المناخ | ← | ٦- حالة الجو في مكان ما خلال فترات زمنية طويلة يسمى <u>الرياح</u> . ص ٢٥ |
| الأدنى | ← | ٧- عرف الخليج العربي قديماً ببحر شروق الشمس وبالبحر <u>الأسود</u> . ص ٤٧ |

(ب) أمامك خريطة شبة الجزيرة العربية الصماء أكتب الرقم الدال على العبارات التي تليها:
(لكل سؤال درجة = ٤ درجات)



١- الدولة التي حصلت على استقلالها عام ١٩٦١م

يمثلها على الخريطة الرقم (٢) ص ٦٥

٢- البحر الأحمر يمثل على الخريطة الرقم (٣) ص ٢٣

٣- الخليج العربي يمثل على الخريطة الرقم (٤) ص ٢٣

٤- هضبة نجد على الخريطة يمثلها الرقم (١) ص ٢٣

(ج) ضع خطأً تحت الخيار الصحيح من بين الخيارات التي تلي كل عبارة : (لكل سؤال درجة = ٧ درجات)

١- الشيخ الذي في عهده ألغيت معاهدة الحماية ١٨٩٩ م مع بريطانيا: ص ٦٣

مبارك الصباح - أحمد الجابر الصباح - عبدالله السالم الصباح - صباح السالم الصباح

٢- الدولة الخليجية التي ظهرت فيها حضارة مجان القديمة: ص ٨٤

البحرين - الإمارات - قطر - عمان

٣- تقع منطقة الخليج العربية بالنسبة لقارة آسيا في الجهة: ص ١٩

الشمالية الغربية - الجنوبية الغربية - الشمالية الشرقية - الجنوبية الشرقية

٤- تعيش في منطقة الخليج العربية العديد من الحيوانات المستأنسة منها: ص ٢٦

الزواحف - الثعبان - الضب - الأبل

٥- أفضل أنواع السفن المستعملة في رحلة السفر لمتانتها وقدرتها على نقل الحمولة الكبيرة: ص ٣٤

البغلة - السنبوك - الشعوي - الجالبوت

٦- الموقع بالنسبة لخطوط الطول ودوائر العرض : ص ٢٠

النسبي - الجغرافي - الفلكي - المكاني

٧- المدينة التي أعلن فيها قيام مجلس التعاون لدول الخليج العربية : ص ٧٠

الكويت - الرياض - مسقط - أبوظبي

(د) صنف الكلمات التالية بمكانها المناسب في الجدول الذي يليها : (لكل سؤال درجة = ٤ درجات)

العنصيل / العرفج / الحويذان / الصبار ص ٢٦

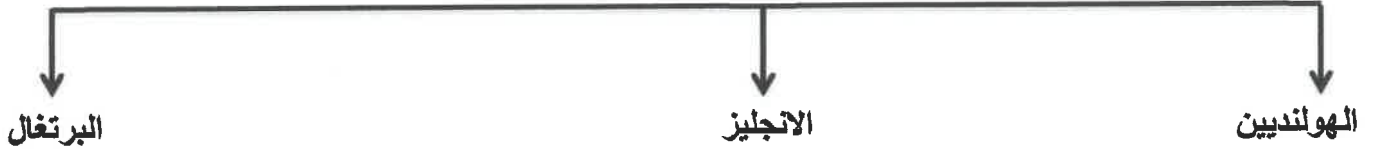
نبات حولي	نبات معمر
العنصيل	الصبار
الحويذان	العرفج

kuwait



(هـ) أكمل المخططات السهمية التالية بما يناسبها فيما درست : (لكل نقطة درجة واحدة = ٦ درجات)

١- الدول الاستعمارية الأوروبية التي توالى على الخليج العربي: ص ٦٠



٢- أشكال سطح الأرض: ص ٢٣



٣- وسائل صيد الأسماك قديماً : ص ٣١



(و) اختر للمجموعة (أ) ما يرتبط بها من المجموعة (ب) بوضع الرقم المناسب: (لكل سؤال درجة = ٥ درجات) ص ٣٢

م	المجموعة (أ)	الرقم المناسب	المجموعة (ب)
١	ريان السفينة	٢	الطواش
٢	تاجر اللؤلؤ	٤	السيب
٣	يغوص في أعماق البحر بحثاً عن اللؤلؤ	٥	النهام
٤	يسحب الغاصة من أعماق البحر	٣	الغواص
٥	مطرب السفينة	١	النوخذة

(ز) ضع الاسم المناسب للحرف التالية أسفل الصورة مستعيناً بما بين القوسين ص ٢٩ (لكل نقطة درجة = ٣ درجات)

(حياكة السدو - صناعة الخوص - خياطة البشوت) .



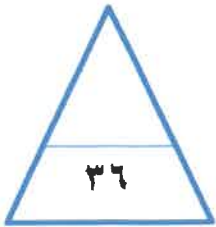
(حياكة السدو)



(خياطة البشوت)



(- صناعة الخوص)



السؤال الثاني : ويتكون من (أ - ب - ج) :

(أ) علل لما يأتي :

١- انصرف سكان منطقة الخليج العربية عن حرفة الغوص على اللؤلؤ . ص ٣١ (درجتان)

▪ ظهور اللؤلؤ الصناعي

▪ اكتشاف النفط

٢- توافر النباتات المعمرة طول العام في دول الخليج العربية. ص ٢٦ (درجتان)

▪ تتحمل الجفاف.

▪ تتحمل ارتفاع درجة الحرارة وجذورها الطويلة ، قلة أوراقها ، كثرة الأشواك ، وقدرتها العالية على

تخزين المياه.

(ب) قارن بين كل من: ص ٢١ (٤ درجات لكل نقطه درجة)

أوجه المقارنة	خطوط الطول	دوائر العرض
التعريف	خطوط وهمية أي غير موجودة على سطح الأرض ترسم على الكرة الأرضية , وتقسّم الكرة الأرضية إلى قسمين شرقي وغربي وعددها ٣٦٠ خطاً.	خطوط وهمية أي غير موجودة على سطح الأرض ترسم على الكرة الأرضية , وتقسّم الكرة الأرضية إلى قسمين شمالي وجنوبي وعددها ١٨٠ دائرة.
العدد	٣٦٠	١٨٠

(ج) أجب عن الأسئلة التالية :

(درجتان)

١- أذكر أهمية موقع منطقة الخليج العربية ؟ ص ١٩

• تقع في وسط العالم .

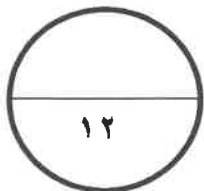
• تتحكم بأهم طرق التجارة العالمية .

٢- عدد أهداف مجلس التعاون لدول الخليج العربية ؟ ص ٧٦ (درجتان ويكتفى بنقطتين)

• تحقيق التعاون بين الدول الأعضاء في جميع المجالات .

• تحقيق الترابط والصلات بين دول مجلس التعاون.

• العمل على تقدم دول مجلس التعاون في المجال العلمي.



السؤال الثالث: ويتكون من (أ - ب - ج) :

(أ) عرف المفاهيم أو المصطلحات الدالة على العبارات التالية : (٤ درجات لكل تعريف درجة)

المفهوم	التعريف
١- الخليج العربي ص ١٩	ذراع مائي لبحر العرب يمتد من خليج عمان جنوباً حتى شط العرب شمالاً.
٢- الواحة ص ٢٩	منطقة تقع في الصحراء , فيها مياه عذبة صالحة للزراعة.
٣- الاستعمار ص ٦١	هو أن تسيطر دولة قوية على دولة ضعيفة بهدف استغلال مواردها (خيراتها) .
٤- الموقع النسبي ص ٢٠	الموقع بالنسبة للماء واليابس.

(ب) اكتب فيما يلي :

١- الهيكل التنظيمي لمجلس التعاون الخليجي لدول الخليج العربية. ص ٧٠ (٣ درجات)

- المجلس الأعلى
- المجلس الوزاري
- الأمانة العامة

٢- الأنشطة البحرية في منطقة الخليج العربية قديماً. ص ٣١ + ص ٣٣ (٣ درجات)

- صيد الأسماك
- الغوص على اللؤلؤ
- صناعة السفن

(ج) قارن بين فصل الصيف وفصل الشتاء في دول الخليج العربية حسب الجدول التالي : (درجتان) ص ٢٥

أوجه المقارنة	فصل الصيف	فصل الشتاء
حالة الجو	ترتفع الحرارة صيفاً إلى أكثر من ٤٠ ° وفصل طويل يمتد لمعظم شهور السنة وهو حار جاف ورطب خاصة في المناطق الساحلية.	شهر قصير جداً ويمتاز بالدفء .

انتهت الأسئلة